



LUDIA ASESORAS. Asesoría Psicológica.

The background of the central section is a collection of cookies on a light-colored surface. Some cookies are shaped like four-leaf clovers in shades of green, while others are shaped like flowers in shades of pink and orange. Several cookies feature numbers: a '9' on a pink flower, a '2' on a pink flower, and a '7' on a pink flower. A small red ladybug is perched on the letter 'Y' of the word "LUCKY".

LUCKY NUMBERS

FICHAS DE USO EN EL AULA

ÍNDICE

● FICHAS PARA USO EN EL AULA	3
○ Anexo 1: Coloca los números	4
○ Anexo 2: Escribe con letras	7
○ Anexo 3: Anterior y posterior	14
○ Anexo 4: Operamos	17
○ Anexo 5: ¡A dibujar!	26
○ Anexo 6: Continúa la serie	33
○ Anexo 7: Mayor o menor	42
○ Anexo 8: Descomponer	45
○ Anexo 9: Aproximaciones	49
○ Anexo 10: Ordenar	52
● CONTACTO	55



FICHAS PARA
EL AULA:
LUCKY
NUMBERS

ANEXO I: COLOCA LOS NÚMEROS




COLOCA LOS NÚMEROS (ejemplo)

En las siguientes líneas, deberás anotar los 16 números que te dicte tu docente.

47, 89, 100, 37, 61, 87, 97, 46, 35, 58, 30, 72, 50, 48, 92, 28.


A continuación, en esta tablilla del juego Lucky Numbers, tendrás que colocar esos números que te han dictado. Para ello, seguirás las normas de colocación del propio juego, los números deberán estar en orden ascendente de arriba a abajo y de izquierda a derecha.



COLOCA LOS NÚMEROS

En las siguientes líneas, deberás anotar los 16 números que te dicte tu docente.

A continuación, en esta tablilla del juego Lucky Numbers, tendrás que colocar esos números que te han dictado. Para ello, seguirás las normas de colocación del propio juego, los números deberán estar en orden ascendente de arriba a abajo y de izquierda a derecha.



ANEXO 2: ESCRIBE CON LETRAS



ESCRIBE CON LETRAS (ejemplo)

Elige al azar 4 tréboles del juego Lucky Numbers y colócalos en cada uno de los espacios de abajo. Escribe, en las líneas de al lado, su número en letras.



diecisiete



catorce



nueve



veinte

ESCRIBE CON LETRAS

Elige al azar 4 tréboles del juego Lucky Numbers y colócalos en cada uno de los espacios de abajo. Escribe, en las líneas de al lado, su número en letras.













ESCRIBE CON LETRAS

Elige al azar 4 tréboles del juego Lucky Numbers y colócalos en cada uno de los espacios de abajo. Escribe, en las líneas de al lado, su número en letras.

_____	←	
_____	←	
_____	←	
_____	←	

ESCRIBE CON LETRAS (ejemplo)

Elige al azar 8 tréboles del juego Lucky Numbers y colócalos en cada uno de los espacios de abajo. Escribe, en las líneas de al lado, el número resultante en letras.



Ochenta y cinco



Ciento veintiuno



Cuarenta y tres



Doscientos cuatro

ESCRIBE CON LETRAS

Elige al azar 8 tréboles del juego Lucky Numbers y colócalos en cada uno de los espacios de abajo. Escribe, en las líneas de al lado, el número resultante en letras.

TRÉBOL TRÉBOL → _____

TRÉBOL TRÉBOL → _____

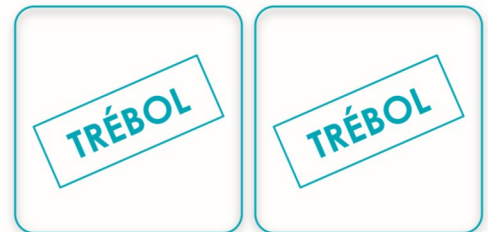
TRÉBOL TRÉBOL → _____

TRÉBOL TRÉBOL → _____

ESCRIBE CON LETRAS

Elige al azar 8 tréboles del juego Lucky Numbers y colócalos en cada uno de los espacios de abajo. Escribe, en las líneas de al lado, el número resultante en letras.









ANEXO 3: ANTERIOR Y POSTERIOR



ANTERIOR Y POSTERIOR (ejemplo)

Toma 4 tréboles al azar y colócalos en la columna del centro. A continuación, escribe con cifras en el cuadrado de la izquierda el número anterior y, en el de la derecha, el número posterior al que aparece en el trébol.



-



-



-



-



-



-



-



-



ANTERIOR Y POSTERIOR

Toma 4 tréboles al azar y colócalos en la columna del centro. A continuación, escribe con cifras en el cuadrado de la izquierda el número anterior y, en el de la derecha, el número posterior al que aparece en el trébol.



-



-



-



-



-



-



-



-









ANEXO 4: OPERAMOS









SUMAMOS (ejemplo)

Elige al azar tréboles del juego Lucky Numbers y colócalos en cada uno de los espacios de abajo. Escribe el resultado de cada suma.

	
$+$	
1 0 2	

	
$+$	
1 2 9	

	
$+$	
7 7	

	
$+$	
2 2 2	

SUMAMOS

Elige al azar tréboles del juego Lucky Numbers y colócalos en cada uno de los espacios de abajo. Escribe el resultado de cada suma.

TRÉBOL	TRÉBOL
+	TRÉBOL





TRÉBOL	TRÉBOL
+	TRÉBOL





TRÉBOL	TRÉBOL
+	TRÉBOL





TRÉBOL	TRÉBOL
+	TRÉBOL





RESTAMOS (ejemplo)

Elige al azar tréboles del juego Lucky Numbers y colócalos en cada uno de los espacios de abajo. Escribe el resultado de cada resta.

	
	
<hr/>	
2	6

	
	
<hr/>	
1	4 5

	
	
<hr/>	
7	0

	
	
<hr/>	
1	6 4

RESTAMOS

Elige al azar tréboles del juego Lucky Numbers y colócalos en cada uno de los espacios de abajo. Escribe el resultado de cada resta.

TRÉBOL

TRÉBOL

—

TRÉBOL

TRÉBOL

TRÉBOL

—

TRÉBOL

TRÉBOL

TRÉBOL

—

TRÉBOL

TRÉBOL





TRÉBOL





—





TRÉBOL





MULTIPLICAMOS (ejemplo)

Elige al azar tréboles del juego Lucky Numbers y colócalos en cada uno de los espacios de abajo. Escribe el resultado de cada multiplicación.

	
	
	
<hr/>	
2	1 7

	
	
	
<hr/>	
2	9 2

	
	
	
<hr/>	
8	3 0

	
	
	
<hr/>	
1	6 8 3

MULTIPLICAMOS

Elige al azar tréboles del juego Lucky Numbers y colócalos en cada uno de los espacios de abajo. Escribe el resultado de cada multiplicación.

TRÉBOL	TRÉBOL
×	TRÉBOL




TRÉBOL	TRÉBOL
×	TRÉBOL




TRÉBOL	TRÉBOL
×	TRÉBOL

TRÉBOL	TRÉBOL
×	TRÉBOL

DIVIDIMOS (ejemplo)

Elige al azar tréboles del juego Lucky Numbers y colócalos en cada uno de los espacios de abajo. Escribe el resultado de cada división.

		
4	1	25
	6	
)	

		
2	4	24
	4	
)	

DIVIDIMOS

Elige al azar tréboles del juego Lucky Numbers y colócalos en cada uno de los espacios de abajo. Escribe el resultado de cada división.

TRÉBOL TRÉBOL

TRÉBOL

TRÉBOL TRÉBOL

TRÉBOL

ANEXO 5: ¡A DIBUJAR!




¡ A DIBUJAR! (ejemplo)

Elige una ficha al azar del juego Lucky Numbers. Colócala en el espacio correspondiente. En el recuadro grande, dibuja tantas figuras como te diga la carta.



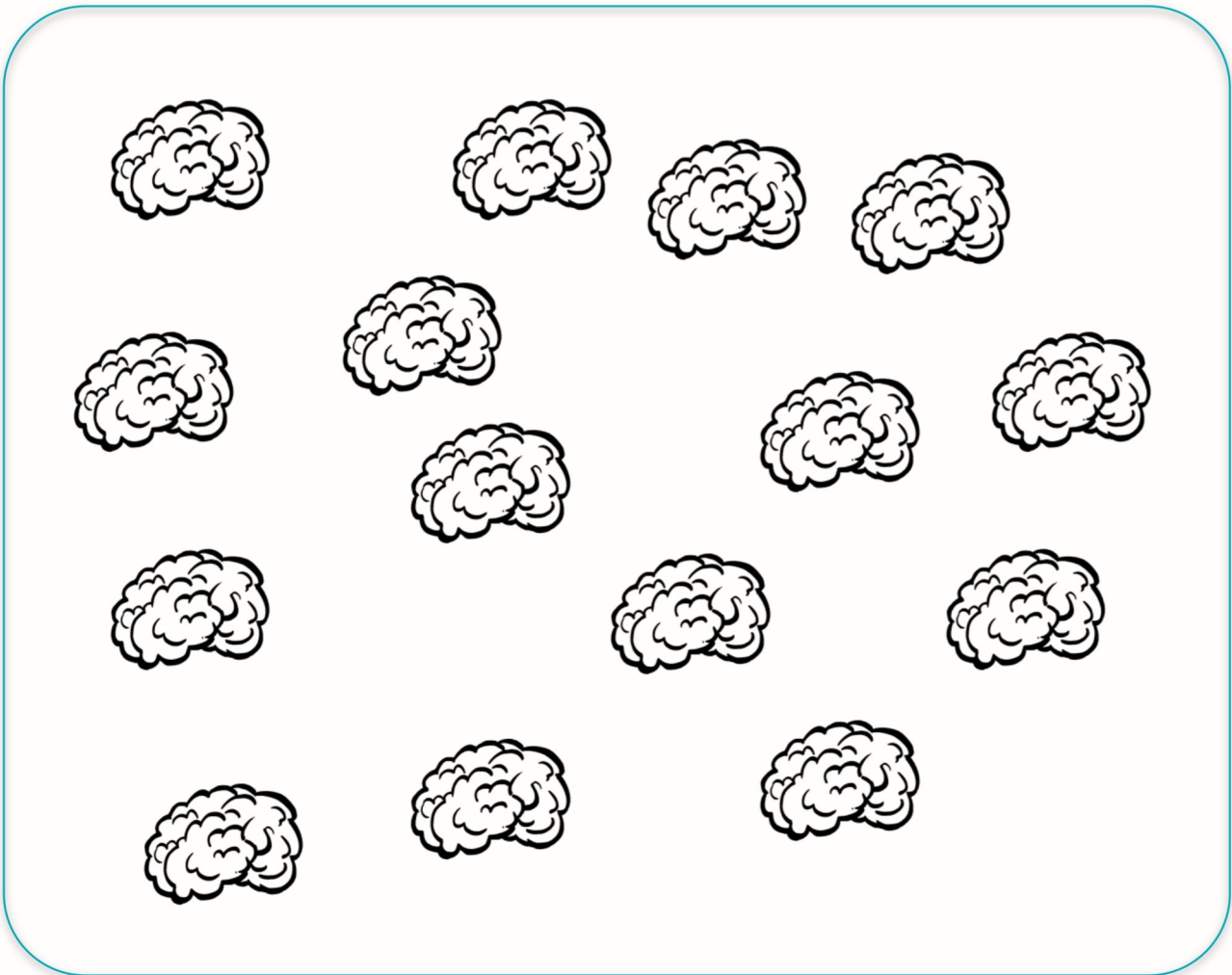

¡A DIBUJAR!

Elige una ficha al azar del juego Lucky Numbers. Colócala en el espacio correspondiente. En el recuadro grande, dibuja tantas figuras como te diga la carta.




¡ A DIBUJAR! (ejemplo)

Elige dos fichas al azar del juego Lucky Numbers. Colócalas en los espacios correspondientes. Realiza la suma. En el recuadro de abajo, dibuja tantas figuras como el resultado que te haya dado la suma.




¡ A DIBUJAR!

Elige dos ficha al azar del juego Lucky Numbers. Colócalas en los espacios correspondientes. Realiza la suma. En el recuadro de abajo, dibuja tantas figuras como el resultado que te haya dado la suma.

A large, empty rounded rectangle with a teal border, intended for the student to draw the result of the sum.


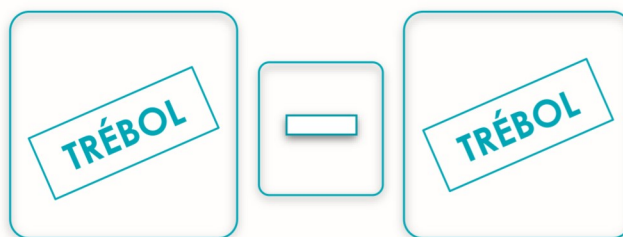
¡ A DIBUJAR! (ejemplo)

Elige dos fichas al azar del juego Lucky Numbers. Coloca la ficha con el valor más alto en el primer espacio y, la ficha con el valor más bajo, en el segundo espacio. Realiza la resta. En el recuadro grande, dibuja tantas figuras como el resultado que te haya dado esa resta.




¡ A DIBUJAR!

Elige dos fichas al azar del juego Lucky Numbers. Coloca la ficha con el valor más alto en el primer espacio y, la ficha con el valor más bajo, en el segundo espacio. Realiza la resta. En el recuadro grande, dibuja tantas figuras como el resultado que te haya dado esa resta.



ANEXO 6: CONTINÚA LA SERIE



CONTINÚA LA SERIE (ejemplo)

Elige al azar 4 fichas del juego Lucky Numbers y colócalas en cada uno de los espacios de abajo. En las líneas de al lado, continúa la serie en orden ascendente de uno en uno. Puedes terminar cuando hayas escrito los 10 números siguientes.



3, 4, 5, 6, 7, 8, 9, 10, 11, 12



16, 17, 18, 19, 20, 21, 22, 23, 24, 25



10, 11, 12, 13, 14, 15, 16, 17, 18, 19



14, 15, 16, 17, 18, 19, 20, 21, 22, 23

CONTINÚA LA SERIE

Elige al azar 4 fichas del juego Lucky Numbers y colócalas en cada uno de los espacios de abajo. En las líneas de al lado, continúa la serie en orden ascendente de uno en uno. Puedes terminar cuando hayas escrito los 10 números siguientes.

















CONTINÚA LA SERIE

Elige al azar 4 fichas del juego Lucky Numbers y colócalas en cada uno de los espacios de abajo. En las líneas de al lado, continúa la serie en orden ascendente de uno en uno. Puedes terminar cuando hayas escrito los 10 números siguientes.

<hr/> <hr/> <hr/> <hr/> <hr/> <hr/>		
<hr/> <hr/> <hr/> <hr/> <hr/>		
<hr/> <hr/> <hr/> <hr/> <hr/>		
<hr/> <hr/> <hr/> <hr/> <hr/>		

CONTINÚA LA SERIE (ejemplo)

Elige al azar 4 fichas del juego Lucky Numbers y colócalas en cada uno de los espacios de abajo. En las líneas de al lado, continúa la serie en orden ascendente de dos en dos. Puedes terminar cuando hayas escrito los 10 números siguientes.



7, 9, 11, 13, 15, 17, 19, 21, 23, 25



20, 22, 24, 26, 28, 30, 32, 34, 36, 38



11, 13, 15, 17, 19, 21, 23, 25, 27, 29



4, 6, 8, 10, 12, 14, 16, 18, 20, 22

CONTINÚA LA SERIE

Elige al azar 4 fichas del juego Lucky Numbers y colócalas en cada uno de los espacios de abajo. En las líneas de al lado, continúa la serie en orden ascendente de dos en dos. Puedes terminar cuando hayas escrito los 10 números siguientes.













CONTINÚA LA SERIE

Elige al azar 4 fichas del juego Lucky Numbers y colócalas en cada uno de los espacios de abajo. En las líneas de al lado, continúa la serie en orden ascendente de dos en dos. Puedes terminar cuando hayas escrito los 10 números siguientes.

<hr/> <hr/> <hr/> <hr/> <hr/> <hr/> <hr/> <hr/> <hr/> <hr/> 	   	<div style="border: 1px solid teal; border-radius: 15px; padding: 10px; width: 100px; margin: 0 auto;"> <p style="text-align: center; margin: 0;">TRÉBOL</p> </div> <div style="border: 1px solid teal; border-radius: 15px; padding: 10px; width: 100px; margin: 0 auto;"> <p style="text-align: center; margin: 0;">TRÉBOL</p> </div> <div style="border: 1px solid teal; border-radius: 15px; padding: 10px; width: 100px; margin: 0 auto;"> <p style="text-align: center; margin: 0;">TRÉBOL</p> </div> <div style="border: 1px solid teal; border-radius: 15px; padding: 10px; width: 100px; margin: 0 auto;"> <p style="text-align: center; margin: 0;">TRÉBOL</p> </div>
--------------------------------------------------------------------------------------------	------------------------------------------------------------------------------------------------------------------------------------------------------------------------------------------------------------------------------------------------------------------------------------------------------------------------------------------------------------------------	------------------------------------------------------------------------------------------------------------------------------------------------------------------------------------------------------------------------------------------------------------------------------------------------------------------------------------------------------------------------------------------------------------------------------------------------------------------------------------------------------------------------------------------------------------------------------------------------------------------------------------------------------------------------------------------

CONTINÚA LA SERIE (ejemplo)

Saca 2 tréboles al azar del juego Lucky Numbers y colócalos en los espacios correspondientes.



Ahora, piensa cuántos números los separan y anótalo en el círculo de abajo.

4

Comenzando con el número de la carta más baja, continúa la serie en orden ascendente con ese valor numérico. Puedes parar cuando lleves diez números.


7, 11, 15, 19, 23, 27, 31, 35, 39, 43

CONTINÚA LA SERIE

Saca dos cartas de número al azar del juego Fórmula y colócalas en los espacios correspondientes.



Ahora, piensa cuántos números los separan y anótalo en el círculo de abajo.



Comenzando con el número de la carta más baja, continúa la serie en orden ascendente con ese valor numérico. Puedes parar cuando lleves diez números.

ANEXO 7: MAYOR O MENOR



MAYOR O MENOR (ejemplo)

Saca 8 tréboles al azar del juego Lucky Numbers y colócalos en los espacios correspondientes.













Ahora, en los círculos del centro, coloca el símbolo de mayor (>) o menor (<) según corresponda.



MAYOR O MENOR

Saca 8 tréboles al azar del juego Lucky Numbers y colócalos en los espacios correspondientes.

Ahora, en los círculos del centro, coloca el símbolo de mayor (>) o menor (<) según corresponda.

ANEXO 8: DESCOMPONER



DESCOMPONER (ejemplo)

Toma 4 tréboles al azar del juego Lucky Numbers y colócalos en cada uno de los espacios de abajo. En las líneas de al lado, tendrás que descomponer ese número en diferentes sumas.



$4+1$

$5+0$

$3+2$

$12+6$



$10+8$

$9+9$



$4+5$

$3+6$

$1+8$



$1+2$

$3+0$

$2+1$

DESCOMPONER

Toma 4 tréboles al azar del juego Lucky Numbers y colócalos en cada uno de los espacios de abajo. En las líneas de al lado, tendrás que descomponer ese número en diferentes sumas.
















DESCOMPONER

Toma 4 tréboles al azar del juego Lucky Numbers y colócalos en cada uno de los espacios de abajo. En las líneas de al lado, tendrás que descomponer ese número en diferentes sumas.

<hr/> <hr/> <hr/>		
<hr/> <hr/> <hr/>		
<hr/> <hr/> <hr/>		
<hr/> <hr/> <hr/>		

ANEXO 9: APROXIMACIONES



APROXIMACIONES (ejemplo)

Escribe el número que te diga tu docente en el círculo que tienes a continuación:



Saca 2 tréboles al azar del juego Lucky Numbers y colócalos en los espacios correspondientes.




Ahora, escribe el número del trébol que esté más cerca del número del círculo.

El número 7 está más cerca del número 4.

APROXIMACIONES

Escribe el número que te diga tu docente en el círculo que tienes a continuación:



Saca 2 tréboles al azar del juego Lucky Numbers y colócalos en los espacios correspondientes.



Ahora, escribe el número del trébol que esté más cerca del número del círculo.

ANEXO 10: ORDENAR



ORDENA LOS NÚMEROS (ejemplo)

Toma 4 fichas de trébol al azar del juego Lucky Numbers. Fíjate muy bien en los números de cada uno y colócalos en los espacios, ordenándolos de menor a mayor. Escribe debajo cada número con cifras.



2



10



12



16

Toma esas mismas 4 fichas y, a continuación, ordénalas de mayor a menor en los espacios de abajo. Escribe debajo cada número con cifras.



16



12



2




10

ORDENA LOS NÚMEROS

Toma 4 fichas de trébol al azar del juego Lucky Numbers. Fíjate muy bien en los números de cada uno y colócalos en los espacios, ordenándolos de menor a mayor. Escribe debajo cada número con cifras.

			
_____	_____	_____	_____

Toma esas mismas 4 fichas y, a continuación, ordénalas de mayor a menor en los espacios de abajo. Escribe debajo cada número con cifras.

			
_____	_____	_____	_____